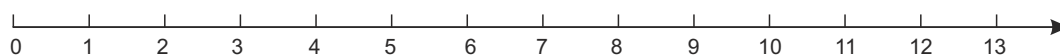


# Zabawy matematyczne



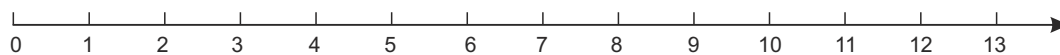
Żabka dostała od mamy zadanie, aby przeskoczyć co drugą liczbę na osi liczbowej aż do cyfry 8.

- Proszę zaznaczyć na osi trasę jaką pokonała żabka.
- Zapisz trasę żabki w postaci dodawania.
- Po ilu skokach żabka dotarła do celu, zapisz trasę żabki w postaci mnożenia.



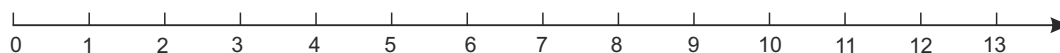
Żabka dostała od mamy zadanie, aby przeskoczyć co drugą liczbę na osi liczbowej aż do cyfry 12.

- Proszę zaznaczyć na osi trasę jaką pokonała żabka.
- Zapisz trasę żabki w postaci dodawania.
- Po ilu skokach żabka dotarła do celu, zapisz trasę żabki w postaci mnożenia.



Żabka dostała od mamy zadanie, aby przeskoczyć co trzecią liczbę na osi liczbowej aż do cyfry 9.

- Proszę zaznaczyć na osi trasę jaką pokonała żabka.
- Zapisz trasę żabki w postaci dodawania.
- Po ilu skokach żabka dotarła do celu, zapisz trasę żabki w postaci mnożenia.



# Zabawy matematyczne

