



Poprowadź linię ciągłą między punktami w kwadratach, zgodnie z instrukcją.

	A	B	C
1	•	•	•
2	•	•	•
3	•	•	•

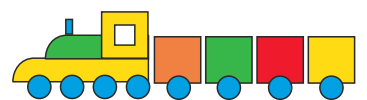
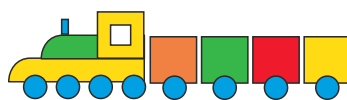
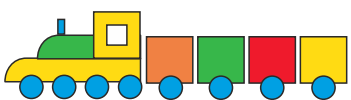
A1-B1	A2-A3
B1-B3	A3-C1
B3-C3	C1-C2
A1-C3	A2-C2

	A	B	C
1	•	•	•
2	•	•	•
3	•	•	•

B1-A2	
A2-B3	
B3-C2	
C2-B1	

	A	B	C
1	•	•	•
2	•	•	•
3	•	•	•

A1-A2	B3-B1
A2-C2	B1-A1
C2-C3	
C3-B3	





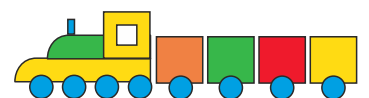
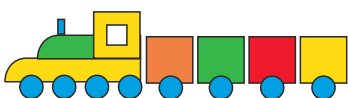
Poprowadź linię ciągłą między punktami w kwadratach, zgodnie z instrukcją.

	A	B	C	D
1	•	•	•	•
2	•	•	•	•
3	•	•	•	•
4	•	•	•	•

A2 - B1	B2 - B4
B1 - C1	B4 - C4
C1 - D2	C4 - C2
A2 - B2	C2 - D4

	A	B	C	D
1	•	•	•	•
2	•	•	•	•
3	•	•	•	•
4	•	•	•	•

A1 - B3	C3 - D1
B3 - B4	D1 - A1
B4 - C4	
C4 - C3	





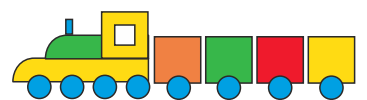
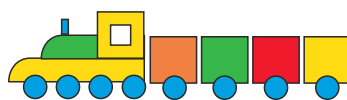
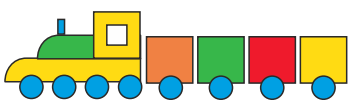
Poprowadź linię ciągłą między punktami w kwadratach, zgodnie z instrukcją.

	A	B	C	D	E
1	•	•	•	•	•
2	•	•	•	•	•
3	•	•	•	•	•
4	•	•	•	•	•
5	•	•	•	•	•

B1 - B4	B5 - D5
B4 - D4	D5 - E4
D4 - B1	E4 - A4
A4 - B5	

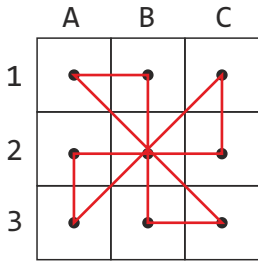
	A	B	C	D	E
1	•	•	•	•	•
2	•	•	•	•	•
3	•	•	•	•	•
4	•	•	•	•	•
5	•	•	•	•	•

B1 - C3	A2 - A4
C3 - B5	A4 - E2
B5 - D5	E2 - E4
D5 - C3	E4 - A2
C3 - D1	
D1 - B1	

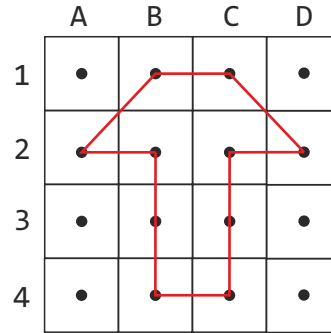




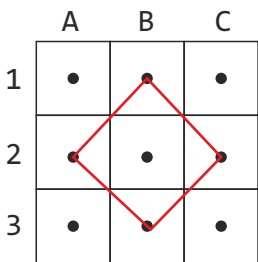
Odpowiedzi.



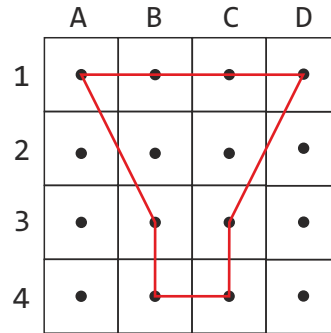
A1-B1	A2-A3
B1-B3	A3-C1
B3-C3	C1-C2
A1-C3	A2-C2



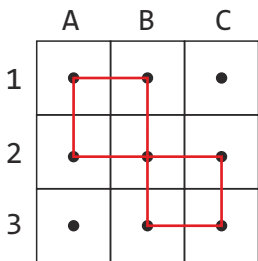
A2-B1	B2-B4
B1-C1	B4-C4
C1-D2	C4-C2
A2-B2	C2-D4



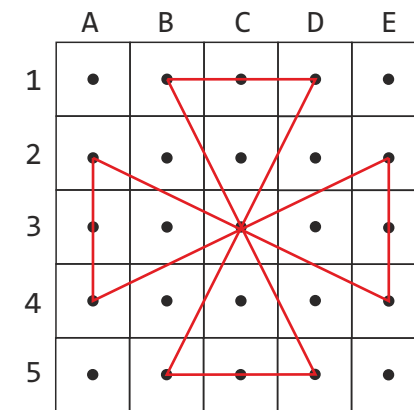
B1-A2	
A2-B3	
B3-C2	
C2-B1	



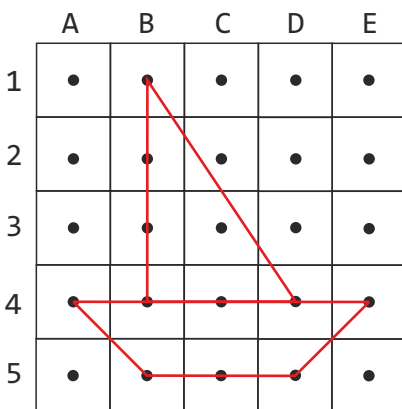
A1-B3	C3-D1
B3-B4	D1-A1
B4-C4	
C4-C3	



A1-A2	B3-B1
A2-C2	B1-A1
C2-C3	
C3-B3	



B1-C3	A2-A4
C3-B5	A4-E2
B5-D5	E2-E4
D5-C3	E4-A2
C3-D1	
D1-B1	



B1-B4	B5-D5
B4-D4	D5-E4
D4-B1	E4-A4
A4-B5	

