



Uzupełnij brakujące liczby w tabelkach, oraz zapisz wykonywane działanie w postaci równania zgodnie z poniższym wzorem.

WZÓR

$\times 3$     $\times 2$

0		
3		
1		
2		



$\times 3$     $\times 2$

0	0	0
3	9	18
1	3	6
2	6	12



Równania:

$$\begin{aligned}(0 \times 3) \times 2 &= 0 \times 2 = 0 \\(3 \times 3) \times 2 &= 9 \times 2 = 18 \\(1 \times 3) \times 2 &= 3 \times 2 = 6 \\(2 \times 3) \times 2 &= 6 \times 2 = 12\end{aligned}$$

$\times 1$     $\times 3$

0		
3		
1		
2		



Równania:

.....

.....

.....

.....

$\times 2$     $\times 4$

3		
2		
1		
4		



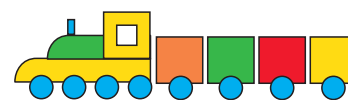
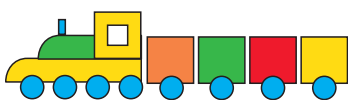
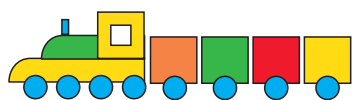
Równania:

.....

.....

.....

.....





# Zabawy matematyczne

www.zabawydladzieci.com.pl



$x1$   $x3$

3		
1		
5		
4		

Równania:

.....

.....

.....

.....

$x2$   $x4$

3		
5		
2		
4		

Równania:

.....

.....

.....

.....

$x4$   $x5$

4		
3		
1		
2		

Równania:

.....

.....

.....

.....

$x3$   $x4$

3		
2		
5		
4		

Równania:

.....

.....

.....

.....

